

activitat 4

La taula següent indica el percentatge de participació i d'abstenció en diverses eleccions:

ANY	PERCENTATGE	
	PARTICIPACIÓ	ABSTENCIÓ
2010	60	40
2005	56	44
2000	59	51
1995	75	25
1990	81	19

1 A la columna del percentatge de l'abstenció hi ha una errada.

1.1. A quin any correspon?

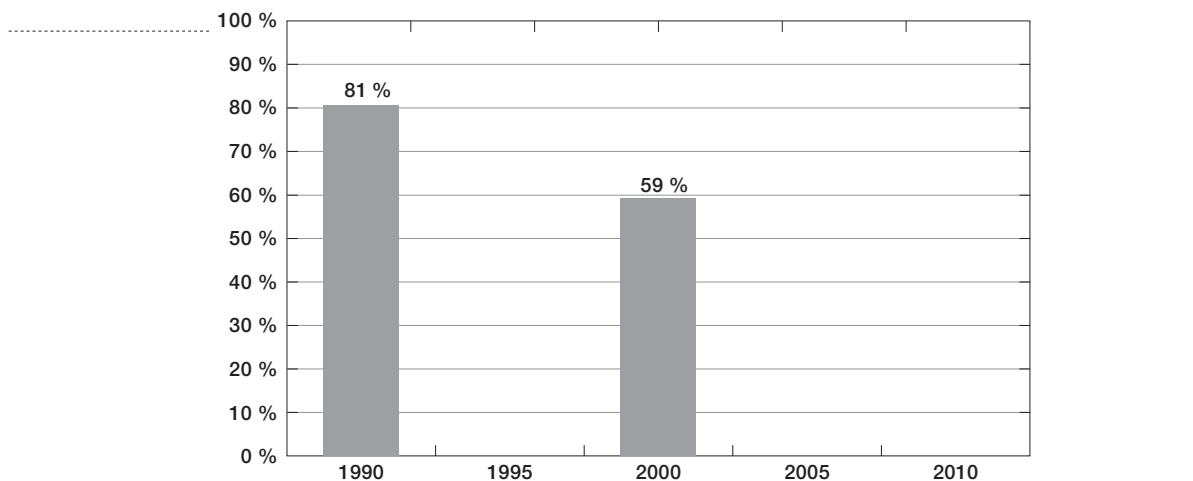
Resposta: Any

1.2. Explica la teva resposta a l'apartat anterior (1.1.)

.....
.....

2 Fes un gràfic de columnes que mostri l'evolució del percentatge de la participació electoral al llarg dels anys. Has de posar-hi també el nom dels eixos i el títol del gràfic.

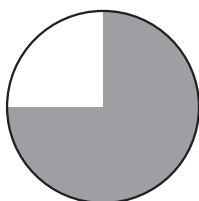
Títol:



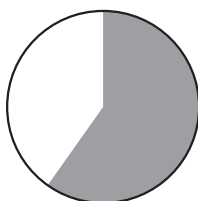
activitat 4

- 3** L'any 2010, la participació va ser del 60 %. Quin d'aquests diagrames de sectors representa aquesta dada?

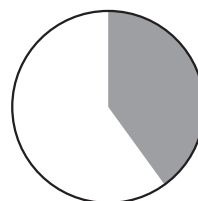
☒ Participació ☐ Abstenció



a. ☐



b. ☐



c. ☐

- 4** L'any 2010, el nombre d'electors (persones que podien anar a votar) era de 324.750. Com que el percentatge de participació va ser d'un 60 %, quantes persones van anar a votar?

Resposta: persones