




AL SALIR DE CLASE

Tico sale todos los días de clase y vuelve a casa con su hermano Gonzalo. Antes de llegar, cada día tienen que realizar unas tareas que tienen encargadas por su familia.



- 23.** Tico tiene la lista de la compra y necesita saber en qué unidad tiene que pedir cada artículo. En la tabla siguiente relaciona cada una de las tres unidades de medida con el artículo correspondiente.

Azúcar	Leche	Cuerda
		

Unidad de medida	Artículo
Litros	
Metros	
Kilogramos	

- 24.** Tico y Gonzalo tienen un perro y varios pájaros. En la compra han adquirido 1.500 gramos de pienso y 350 gramos de huesos para el perro, 150 gramos de alpiste y 75 gramos de semillas para los pájaros. ¿Cuánto pesa la comida que han comprado en total para sus mascotas?

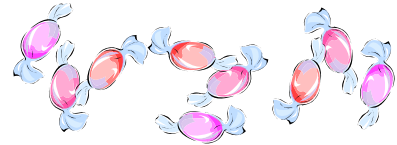
Realiza la siguiente operación para averiguarlo.

$$1.500 + 350 + 150 + 75 =$$



- 25.** Tico y Gonzalo han comprado 150 caramelos para una fiesta y los tienen que repartir entre ellos dos y su hermana Cristina, ¿cuántos caramelos han comprado para cada uno?

Para averiguarlo divide 150 entre 3.



- 26.** Antes de subir a casa, deben dejar el azúcar y la leche a sus abuelos, que viven en el octavo piso. Después verán a su prima Celia, que vive en el vigésimo piso y luego ir a su casa, que es el duodécimo piso.

• 25	• 26
• 23	• 24
• 21	• 22
• 19	• 20
• 17	• 18
• 15	• 16
• 13	• 14
• 11	• 12
• 9	• 10
• 7	• 8
• 5	• 6
• 3	• 4
• 1	• 2

Observa el siguiente cuadro de mandos del ascensor e indica qué botón tendrían que apretar para llegar a estos pisos.

Octavo: _____

Vigésimo: _____

Duodécimo: _____

- 27.** La madre de Tico le dio 50 euros para las compras. Los gastos han sido los siguientes: 28 euros en la comida del perro, 10 euros en la comida de los pájaros, 2 euros en la cuerda y 5 euros para azúcar y leche. ¿Cuánto dinero devolvió Tico a su madre?